

Flottabilité de l'œuf

Fiche 7

Exercice : Les volumes

Exercice n°1 :

Une cuve de mazout de 1 m^3 est à moitié pleine. On ajoute 200 L de mazout. Quel est alors le volume total de liquide dans la cuve.

.....

.....

Exercice n°2 :

Thomas a versé dans le verre gradué ci-contre le jus de fruit de la bouteille, qui en contenait 75 cL.

Quel volume de jus de fruit reste-t-il dans la bouteille ?

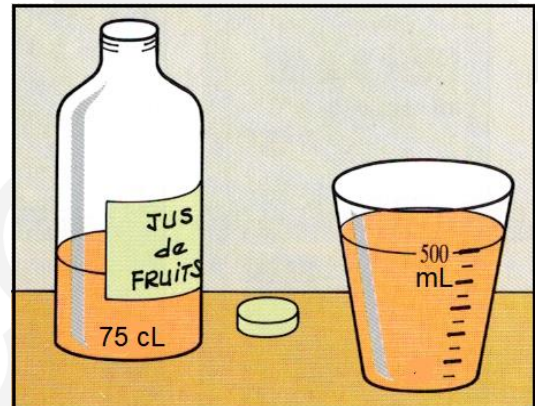
.....

.....

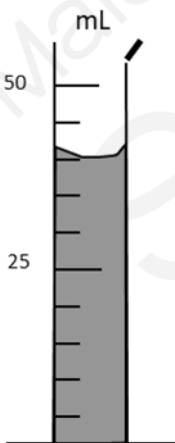
.....

.....

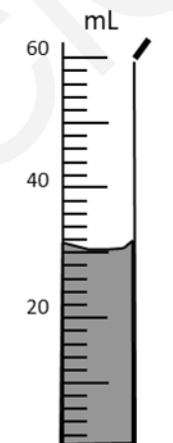
.....



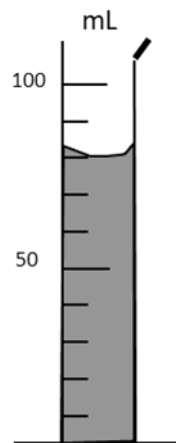
Exercice 3 :



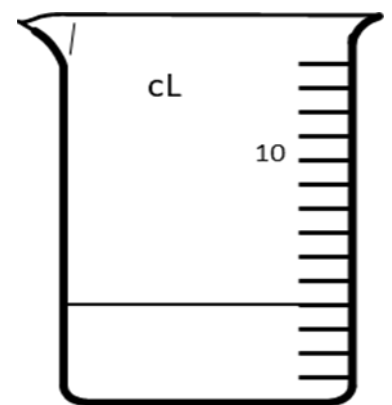
V =



V =



V =



V =